
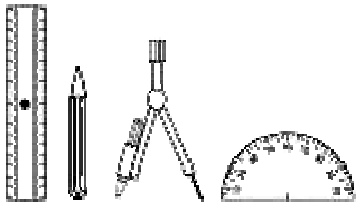


**La chasse au trésor**

Tu dois suivre les consignes dans l'ordre indiqué.

Ces consignes ne sont pas explicites à la première lecture mais deviennent compréhensibles au fur et à mesure du tracé.

Le tracé exige soin et rigueur.



**La route du trésor :**

1. Sur AB, vers l'Est, trace le segment  $AF = 7,5$  cm.
  2. Sur AD, vers le Sud, trace le segment  $AG = 7,7$  cm.
  3. Trace le triangle FAG.
  4. Sur BC, vers le Sud, mesure  $BH = 11$  cm.
  5. Trace le triangle FBH.
  6. Dans le triangle GFH, trace la médiane FI.
  7. Dans le triangle GAF, trace la médiane AJ.
- Ces 2 médianes se coupent en un point K.
8. Sur le segment KF, vers le nord, trace  $KL = 3$  cm.



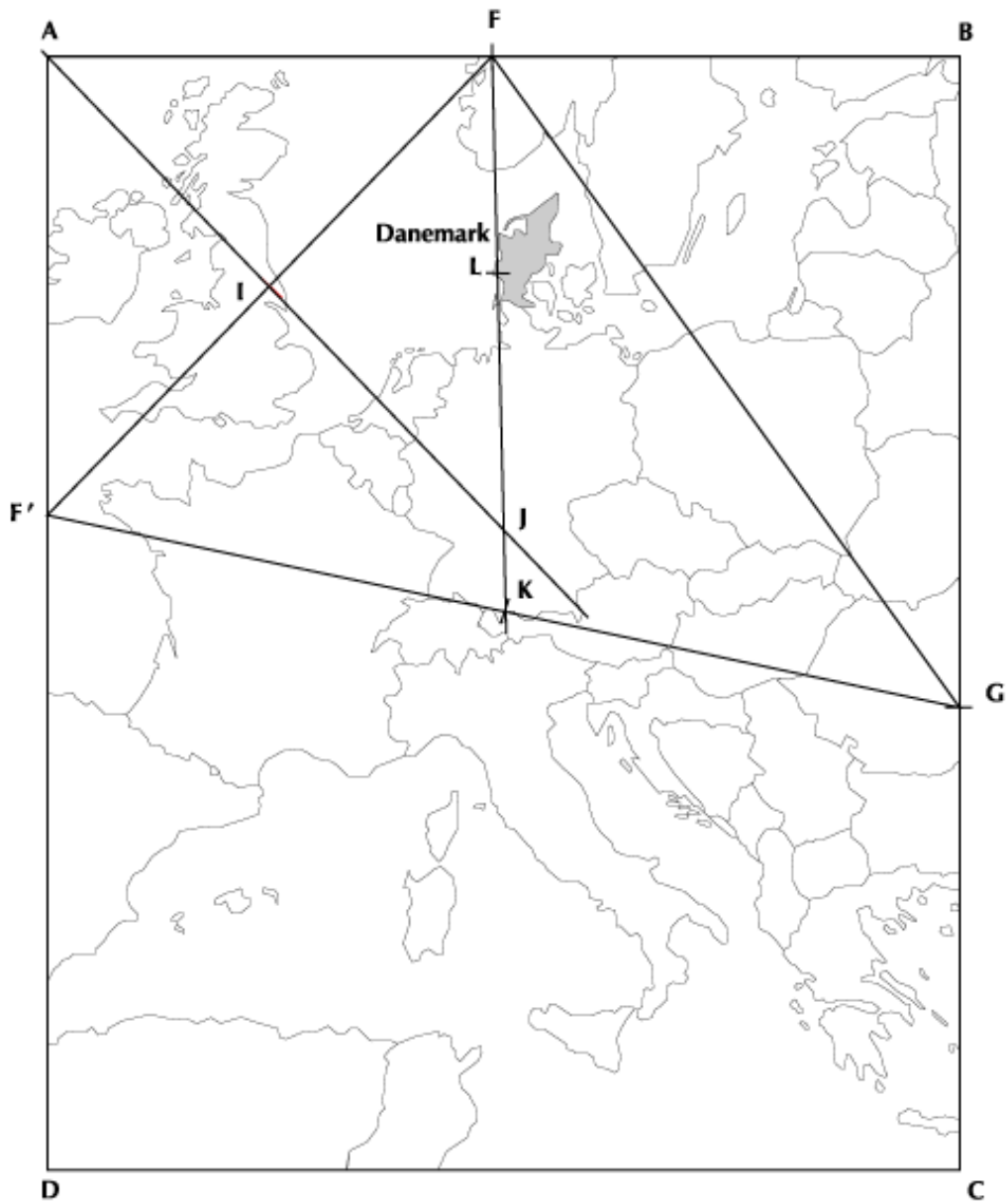
**LE TRÉSOR EST AU POINT L**

Voici la carte sur laquelle tu dois construire la route qui mène au trésor.



Corrigé

Le corrigé peut être photocopié sur transparent pour une auto évaluation de l'élève.



En L, le pays est le Danemark.