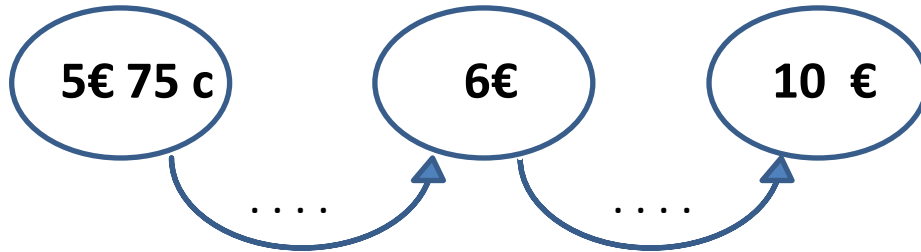


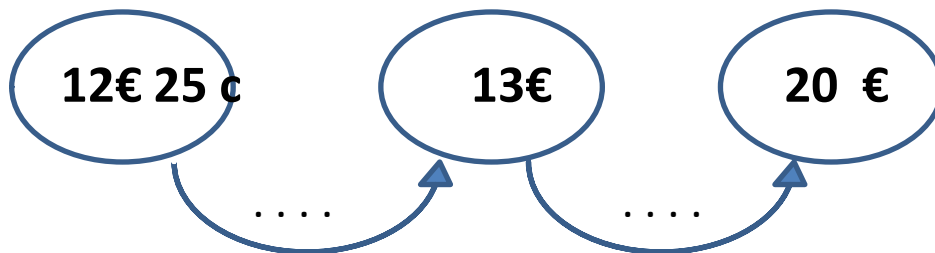
# Rendre la monnaie

## RENFORCEMENT (1)

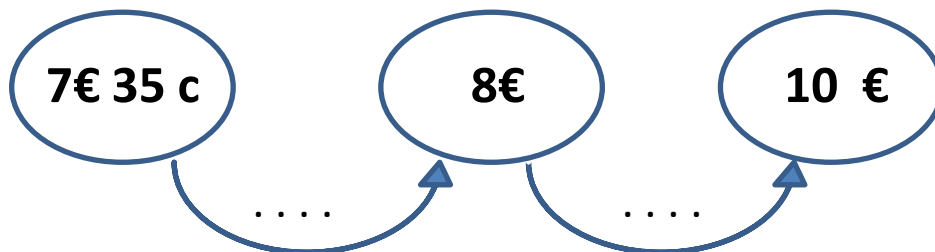
J'achète pour **5 euros et 75 centimes** de bonbons. Je donne **10 euros** à la vendeuse. Quelle monnaie doit-elle me rendre?



J'achète pour **12 euros et 25 centimes** de timbres. Je donne **20 euros** à la vendeuse. Quelle monnaie doit-elle me rendre?

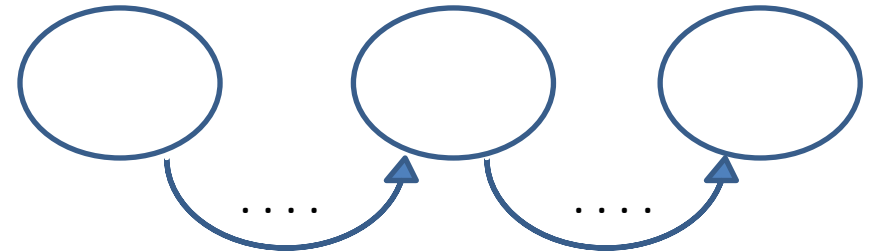


J'achète pour **7 euros et 35 centimes** de chocolats. Je donne **10 euros** à la vendeuse. Quelle monnaie doit-elle me rendre?

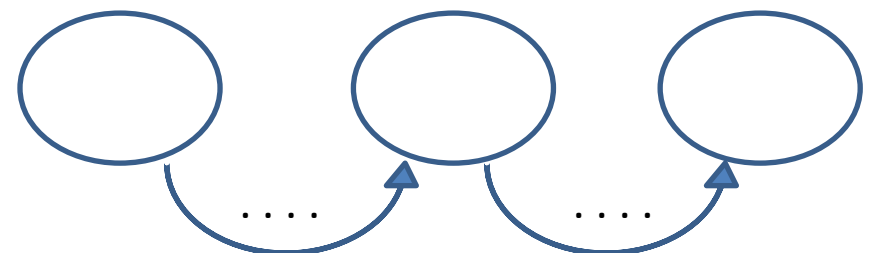


## RENFORCEMENT (2)

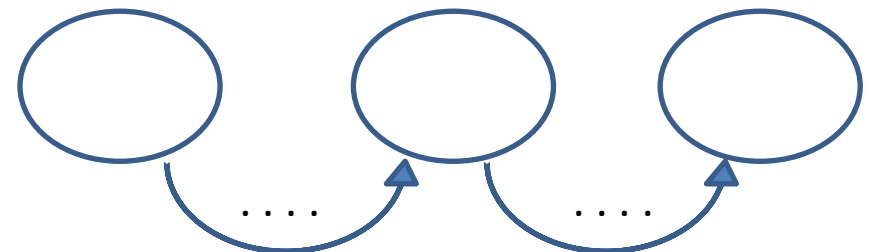
J'achète pour **3 euros et 20 centimes** de bonbons. Je donne **5 euros** à la vendeuse. Quelle monnaie doit-elle me rendre?



J'achète pour **8 euros et 90 centimes** de journaux. Je donne **20 euros** à la vendeuse. Quelle monnaie doit-elle me rendre?



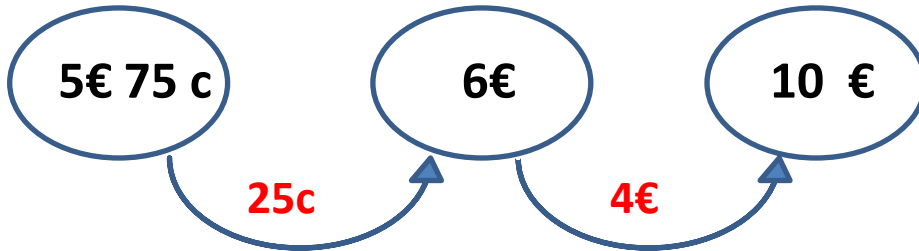
J'achète pour **9 euros et 77 centimes** de fraises. Je donne **50 euros** à la vendeuse. Quelle monnaie doit-elle me rendre?



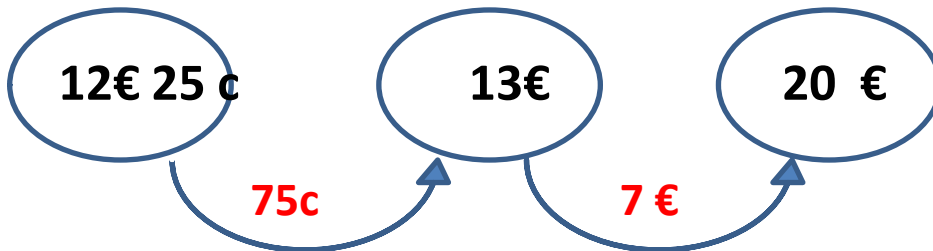
# Rendre la monnaie

### RENFORCEMENT (1)

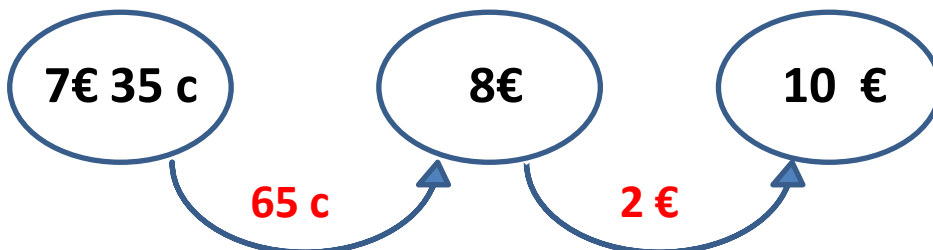
J'achète pour 5 euros et 75 centimes de bonbons. Je donne 10 euros à la vendeuse. Quelle monnaie doit-elle me rendre?



J'achète pour 12 euros et 25 centimes de timbres. Je donne 20 euros à la vendeuse. Quelle monnaie doit-elle me rendre?

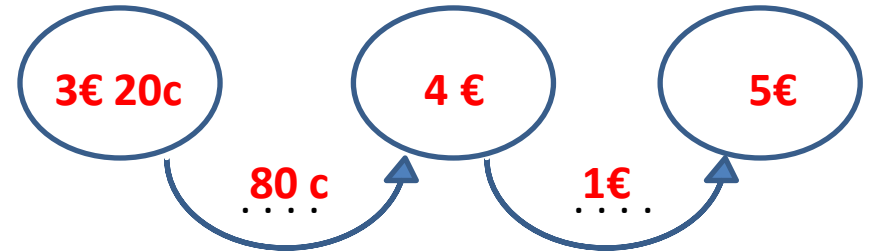


J'achète pour 7 euros et 35 centimes de chocolats. Je donne 10 euros à la vendeuse. Quelle monnaie doit-elle me rendre?

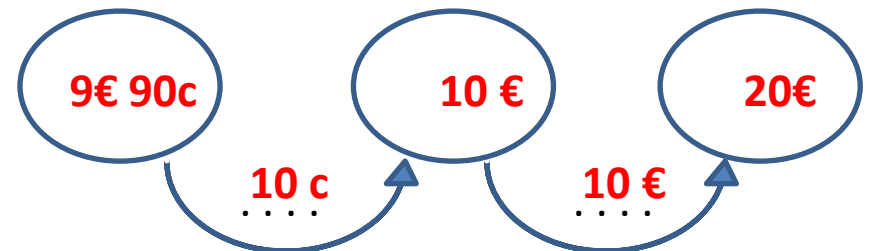


### RENFORCEMENT (2)

J'achète pour 3 euros et 20 centimes de bonbons. Je donne 5 euros à la vendeuse. Quelle monnaie doit-elle me rendre?



J'achète pour 8 euros et 90 centimes de journaux. Je donne 20 euros à la vendeuse. Quelle monnaie doit-elle me rendre?



J'achète pour 9 euros et 77 centimes de fraises. Je donne 50 euros à la vendeuse. Quelle monnaie doit-elle me rendre?

